

笑顔


3月のニューズレター

Vo. 157

問題
まちがいがあります。

水ゆるむ季節。
春の訪れを感じるこのごろです。

(株)迫広砕石




わが家のあたしん家

うさぎ家のお父さんが、おダンプで砕石の配達へ行った日の事です。その日は午前中に片道25分の現場へ5台分配達させてもらうと意欲満々でした。近道を探索しながら順調に3台目を配達していた矢先の事で、突然、10ヶ所が現れ「ここは右折禁止です!!!」お父さん「うそじゃろ〜」いつもなら免許点数もないのであ〜だ〜と粘るのですがこの日は配達中。遅れるとお客様に迷惑が掛かってしまいます。珍しく交通違反切符に素直にサインしたそうです。近道ルートを見つけたつもりが、かくれた標識を見つけたようですわ。交通違反してお客様に砕石配達が出来た事に検付してもらえず、4台分しか配達出来ず、ちよっと寂しくなったお父さんの半日でした。

知らずに捕まる道路交通法

- ① 水たまり泥はね運転違反 普通車 6,000円
(汚水を飛散させて他人に迷惑をかけるはいけません)
- ② サンドル、ハイヒール運転違反 普通車 6,000円
(裸足、履物も禁止です)
- ③ 追いつかれた車両の義務違反 普通車 6,000円
(追いつかれるとき、追い越そうとしている車両の邪魔としてはいけません)


区分ナンプレ



区分ナンプレの解き方

【ルール】
 ●タテ・ヨコ列には1〜7の数字がつつつ入る(数字の重複はなし)。
 ●数字の入った三角に区切られているマスはそれぞれ、そのマスが接している一区切りのエリア内にその数字が入ることを表している。
 (例1)一区切りのエリア内とは以下の通り(タテも同様)。
 ①数字の入っているマスには含まれたエリアでは、両隣にある3と4の数字がアミの3マスのいずれかに入る。
 ②数字の入っているマスと外枠では含まれたエリアでは、アミの4マスのいずれかに入ります。
 (例2)解き方とポイント
 数字の入っているマスと外枠では含まれたエリアがマスの場合は自動的に決まる。

右の問題だと、AかBのどちらかに7の数字が入ることになる。AかBの数字を見つめると、7という数字は、6か4のどちらかに入ることが指定されている。タテ・ヨコ列で数字は重複しないため、Bに7が入る。



Vo.156
解答

9	3	6	5	7	2	1	8	4
1	4	8	3	6	9	7	2	5
7	5	2	8	1	4	3	6	9
3	6	9	2	4	5	8	7	1
8	7	4	1	9	6	5	3	2
2	1	5	7	8	3	4	9	6
6	2	3	4	5	8	9	1	7
4	9	7	6	3	1	2	5	8
5	8	1	9	2	7	6	4	3